



केन्द्रीय रिजर्व पुलिस बल CENTRAL RESERVE POLICE FORCE

Test Date	23/02/2023
Test Time	04:00 PM - 05:30 PM
Subject	Head Constable Ministerial

Section : Hindi Language

Q.1 निम्न में से शुद्ध मुहावरे का चयन करें-

- Ans
- A. नाक पर मच्छर न बैठने देना
 - B. नाक पर मक्खी न बैठने देना
 - C. नाक पर मधुमक्खी न बैठने देना
 - D. नाक पर भुंगा न बैठने देना

Question ID : 630680176670

Status : Answered

Chosen Option : A

Q.2 'जितना आवश्यक' अर्थ है-

- Ans
- A. अल्प का
 - B. पर्याप्त का
 - C. काफी का
 - D. अधिक का

Question ID : 630680176665

Status : Answered

Chosen Option : B

Q.3 निम्न में से शुद्ध मुहावरे का चयन करें-

- Ans
- A. पुट्टे पर पैर न रखने देना
 - B. सर पर हाथ न रखने देना
 - C. पुट्टे पर हाथ न रखने देना
 - D. पुट्टे पर उँगली न रखने देना

Question ID : 630680176671

Status : Answered

Chosen Option : A

Q.4 सर्वोचित शब्द से दिया गया वाक्य पूर्ण करें—

दुनिया में अब बहुराष्ट्रीय कंपनियों का _____ कायम हो चुका है। इन बहुराष्ट्रीय कंपनियों का इतना प्रभाव है कि आज दुनिया के तमाम देशों की सरकारें उनके इशारों पर बनती बिगड़ती हैं।

- Ans
- A. वर्चस्क
 - B. विस्तार
 - C. वर्चस्व
 - D. अभाव

Question ID : 630680176676

Status : Answered

Chosen Option : C

Q.5 शुद्ध पदक्रम वाले वाक्य का चयन करें--

- Ans
- A. मनुष्य की समस्या ही सर्वोपरि है वस्तुतः अस्तित्ववादी जीवन-दृष्टि में।
 - B. वस्तुतः अस्तित्ववादी जीवन-दृष्टि में मनुष्य की समस्या ही सर्वोपरि है।
 - C. अस्तित्ववादी जीवन-दृष्टि में वस्तुतः मनुष्य की समस्या सर्वोपरि है ही।
 - D. वस्तुतः अस्तित्ववादी जीवन-दृष्टि में ही सर्वोपरि है मनुष्य की समस्या।

Question ID : 630680176677

Status : Answered

Chosen Option : C

Q.6 दिये गए वाक्य के वर्तनी की दृष्टि से अशुद्ध अंश का चयन कीजिए-
परीक्षा है, मैं पढ़ाई में व्यस्त हूँ, समय का दुरुपयोग नहीं कर सकता।

- Ans
- A. दुरुपयोग
 - B. पढ़ाई
 - C. व्यस्त
 - D. परीक्षा

Question ID : 630680176667

Status : Answered

Chosen Option : A

Q.7 निम्न में से शुद्ध लोकोक्ति का चयन करें-

- Ans
- A. लकड़ी की नाव नहीं चलती
 - B. कागज़ की नाव नहीं चलती
 - C. मिट्टी की नाव नहीं चलती
 - D. लोहे की नाव नहीं चलती

Question ID : 630680176672

Status : Answered

Chosen Option : B

Q.8 वाक्य विन्यास की दृष्टि से शुद्ध वाक्य का चयन करें-

- Ans A. डॉ. अंबेडकर का जीवन-संघर्ष है दलित साहित्य का वैचारिक आधार।
 B. जीवन-संघर्ष डॉ. अंबेडकर का है दलित साहित्य का वैचारिक आधार।
 C. दलित साहित्य का है वैचारिक आधार डॉ. अंबेडकर का जीवन-संघर्ष।
 D. दलित साहित्य का वैचारिक आधार डॉ. अंबेडकर का जीवन-संघर्ष है।

Question ID : 630680176674

Status : Answered

Chosen Option : D

Q.9 'चंद्रमास के किसी पक्ष की बारहवीं तिथि' वाक्यांश के लिए एक शब्द होगा-

- Ans A. द्वादशी
 B. षोडश
 C. त्रयोदश
 D. एकादशी

Question ID : 630680176679

Status : Answered

Chosen Option : A

Q.10 वाक्य विन्यास की दृष्टि से शुद्ध वाक्य का चयन करें-

- Ans A. नयी कविता अनेक अर्थों में प्रयोगवाद का विकास मानी जा सकती है नया।
 B. नया विकास मानी जा सकती है नयी कविता प्रयोगवाद का अनेक अर्थों में।
 C. नयी कविता अनेक अर्थों में प्रयोगवाद का नया विकास मानी जा सकती है।
 D. प्रयोगवाद का नया विकास मानी जा सकती है नयी कविता अनेक अर्थों में।

Question ID : 630680176675

Status : Answered

Chosen Option : C

Q.11 निम्न में से शुद्ध लोकोक्ति का चयन करें-

- Ans A. थूक चाटे प्यास नहीं बुझती
 B. ओस चाटे प्यास नहीं बुझती
 C. आँसू चाटे प्यास नहीं बुझती
 D. नमक चाटे प्यास नहीं बुझती

Question ID : 630680176673

Status : Answered

Chosen Option : B

Q.12 दिए गए वाक्य का कौन-सा शब्द वर्तनी की दृष्टि से अशुद्ध है?
इस सरकारी पुस्तकालय में कोई सप्ताहिक पत्रिका नहीं आती।

- Ans
- A. पुस्तकालय
 - B. सरकारी
 - C. पत्रिका
 - D. सप्ताहिक

Question ID : 630680176669
Status : Answered
Chosen Option : D

Q.13 स्थानवाचक अव्यय शब्द से वाक्य पूर्ण करें—
रामू _____ नहीं आया है।

- Ans
- A. इधर
 - B. पहले
 - C. ऊपर
 - D. यहाँ

Question ID : 630680176682
Status : Answered
Chosen Option : D

Q.14 निम्न में से कौन-सा विलोम युग्म असुमेलित है?

- Ans
- A. चिरंतन - नश्वर
 - B. चेतन - सुस्त
 - C. चैन - बेचैनी
 - D. चुस्त - लचर

INDIA

Question ID : 630680176666
Status : Answered
Chosen Option : D

Q.15 निम्न में से अपूर्ण भूत काल का उदाहरण है-

- Ans
- A. दिल्ली में तेज़ वर्षा हो रही थी।
 - B. लोग जानते हैं कि पृथ्वी सूर्य की परिक्रमा करती है।
 - C. राम उस रात को भूल चुका।
 - D. रूस ने यूक्रेन पर बम गिराया होगा।

Question ID : 630680176680
Status : Answered
Chosen Option : A

Q.16 दिए गए वाक्य का कौन-सा शब्द वर्तनी की दृष्टि से अशुद्ध है?
भगवान शिव शम्भु का एक नाम तिरलोचन भी है।

- Ans
- A. शम्भु
 - B. शिव
 - C. भगवान
 - D. तिरलोचन

Question ID : 630680176668
Status : Answered
Chosen Option : D

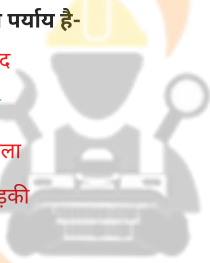
Q.17 उचित कारकचिह्न से वाक्य पूर्ण करें—
रानी बाज़ार ____ सामान लाती है।

- Ans
- A. को
 - B. से
 - C. पर
 - D. ने

Question ID : 630680176681
Status : Answered
Chosen Option : B

Q.18 'परकोटि' का पर्याय है-

- Ans
- A. गारद
 - B. तुंग
 - C. जंगला
 - D. खिड़की



INDIA

Question ID : 630680176664
Status : Not Answered
Chosen Option : --

Q.19 'चख'का पर्याय निम्न में से है-

- Ans
- A. असुर
 - B. चिकना
 - C. नयन
 - D. शक्र

Question ID : 630680176663
Status : Not Answered
Chosen Option : --

Q.20 'ध्यान या विचार करने वाला' वाक्यांश के लिए एक शब्द होगा-

- Ans A. ध्यानमग्न
 B. वैचारिक
 C. ध्याता
 D. योगी

Question ID : 630680176678

Status : Answered

Chosen Option : B

Comprehension:

निम्नलिखित गद्यांश के आधार पर दिए गए प्रश्नों के उत्तर दीजिए।

नाटक साहित्य की वह विधा है जिसका परीक्षण रंगमंच पर होता है और रंगमंच युग विशेष की जनरुचि और तत्कालीन आर्थिक व्यवस्था के आधार पर निर्मित होता है। रंगमंचीय गत्यात्मकता ही नाटक का मूल मर्म है। नाटक की भाषा हरकत की भाषा होती है। अभिनय के लिए प्रयोग किये जानेवाले शब्द या वाक्य तभी सार्थक माने जाते हैं, जब वे कायिक, वाचिक, सात्विक एवं आहार्य अभिनय को उकसाते या प्रेरित करते हैं। दूसरी विधाओं में रचनाकार वर्णनात्मक, चित्रात्मक, एवं संगीतात्मक भाषा के जरिए ही विषयवस्तु को प्रकट करता है, किंतु नाटक में अभिनय के जरिए विषयवस्तु को प्रत्यक्ष घटित होते हुए दिखलाया जाता है। मध्ययुग के उत्तरार्द्ध में ब्रजभाषा हिंदी में भी कुछ ऐसे नाटक प्रणीत हुए जिनकी मूल प्रकृति तो काव्यपरक ही है, किंतु संवाद-शैली में रचे जाने के कारण उन्हें नाटक की संज्ञा दे दी गयी है। रामायण महानाटक (प्राणचंद चौहान), करुणाभरण (लछिराम), शकुंतला (नेवाज) आदि ऐसे ही नाटक हैं। मध्यकाल में लोकधर्मी नाट्य परम्पराएँ पूरे भारत में अनेक नाम रूपों में व्याप्त रही हैं। उत्तर भारत में 'रास' और 'नौटंकी', मध्यभारत और राजस्थान में 'ख्याल', गुजरात में 'भवई', बिहार में 'कीर्तनिया' और 'अंकिया', दक्षिण में 'यक्षगान' के रूप में लोक नाट्य परंपरा बराबर जीवित रही है। भारतेंदु के अनुसार विशुद्ध नाटक रीति का ध्यान रखकर हिंदी का सर्वप्रथम मौलिक नाटक 'नहुष' उनके पिता गोपालचंद (गिरधर दास) द्वारा सन् 1859 ई. में लिखा गया था। नया नाटक आज़ादी के बाद सपनों के क्रमशः टूटने से उत्पन्न विवशता और निराशा की संवेदना का नाटक है। यह उल्लेखनीय है कि सन् 1954-55 के बाद सामान्य शिक्षित जनमानस आंतरिक विघटन एवं घुटन का अनुभव करने लगा। मानव-मन में पलने वाली आशाएँ टूटीं, मोह भंग की स्थिति पैदा हुई। नयी पीढ़ी में कंठा, वर्जना, घुटन, संत्रास, निराशाएँ एवं आशंका ने जन्म लिया। आज़ादी के बाद के नाटकों का मुख्य स्वर यही है।

SubQuestion No : 21

Q.21 नहुष नाटक के लेखक है-

- Ans A. गिरधरदास
 B. नेवाज
 C. लछिराम
 D. प्राणचंद चौहान

Question ID : 630680176684

Status : Answered

Chosen Option : A

Comprehension:

निम्नलिखित गद्यांश के आधार पर दिए गए प्रश्नों के उत्तर दीजिए।

नाटक साहित्य की वह विधा है जिसका परीक्षण रंगमंच पर होता है और रंगमंच युग विशेष की जनरुचि और तत्कालीन आर्थिक व्यवस्था के आधार पर निर्मित होता है। रंगमंचीय गत्यात्मकता ही नाटक का मूल मर्म है। नाटक की भाषा हरकत की भाषा होती है। अभिनय के लिए प्रयोग किये जानेवाले शब्द या वाक्य तभी सार्थक माने जाते हैं, जब वे कायिक, वाचिक, सात्विक एवं आहार्य अभिनय को उकसाते या प्रेरित करते हैं। दूसरी विधाओं में रचनाकार वर्णनात्मक, चित्रात्मक, एवं संगीतात्मक भाषा के जरिए ही विषयवस्तु को प्रकट करता है, किंतु नाटक में अभिनय के जरिए विषयवस्तु को प्रत्यक्ष घटित होते हुए दिखलाया जाता है। मध्ययुग के उत्तरार्द्ध में ब्रजभाषा हिंदी में भी कुछ ऐसे नाटक प्रणीत हुए जिनकी मूल प्रकृति तो काव्यपरक ही है, किंतु संवाद-शैली में रचे जाने के कारण उन्हें नाटक की संज्ञा दे दी गयी है। रामायण महानाटक (प्राणचंद चौहान), करुणाभरण (लछिराम), शकुंतला (नेवाज) आदि ऐसे ही नाटक हैं। मध्यकाल में लोकधर्मी नाट्य परम्पराएँ पूरे भारत में अनेक नाम रूपों में व्याप्त रही हैं। उत्तर भारत में 'रास' और 'नौटंकी', मध्यभारत और राजस्थान में 'ख्याल', गुजरात में 'भवार्ई', बिहार में 'कीर्तनिया' और 'अंकिया', दक्षिण में 'यक्षगान' के रूप में लोक नाट्य परंपरा बराबर जीवित रही है। भारतेन्दु के अनुसार विशुद्ध नाटक रीति का ध्यान रखकर हिंदी का सर्वप्रथम मौलिक नाटक 'नहुष' उनके पिता गोपालचंद (गिरधर दास) द्वारा सन् 1859 ई. में लिखा गया था। नया नाटक आज़ादी के बाद सपनों के क्रमशः टूटने से उत्पन्न विवशता और निराशा की संवेदना का नाटक है। यह उल्लेखनीय है कि सन् 1954-55 के बाद सामान्य शिक्षित जनमानस आंतरिक विघटन एवं घुटन का अनुभव करने लगा। मानव-मन में पलने वाली आशाएँ टूटीं, मोह भंग की स्थिति पैदा हुई। नयी पीढ़ी में कुंठा, वर्जना, घुटन, संत्रास, निराशाएँ एवं आशंका ने जन्म लिया। आज़ादी के बाद के नाटकों का मुख्य स्वर यही है।

SubQuestion No : 22

Q.22 'नये नाटकों' का मुख्य स्वर नहीं है-

- Ans
- A. मानव मन में पलने वाली आशाओं की टूटन का प्रदर्शन।
 - B. नारी सौंदर्य, देश-प्रेम और समाज की चिंता का उल्लेख।
 - C. मोह भंग की स्थिति का उद्घाटन।
 - D. नयी पीढ़ी में कुंठा, वर्जना, घुटन, संत्रास, एवं उपजनेवाली आशंका का प्रस्तुतिकरण।

Question ID : 630680176687

Status : Answered

Chosen Option : B

Comprehension:

निम्नलिखित गद्यांश के आधार पर दिए गए प्रश्नों के उत्तर दीजिए।

नाटक साहित्य की वह विधा है जिसका परीक्षण रंगमंच पर होता है और रंगमंच युग विशेष की जनरुचि और तत्कालीन आर्थिक व्यवस्था के आधार पर निर्मित होता है। रंगमंचीय गत्यात्मकता ही नाटक का मूल मर्म है। नाटक की भाषा हरकत की भाषा होती है। अभिनय के लिए प्रयोग किये जानेवाले शब्द या वाक्य तभी सार्थक माने जाते हैं, जब वे कायिक, वाचिक, सात्विक एवं आहार्य अभिनय को उकसाते या प्रेरित करते हैं। दूसरी विधाओं में रचनाकार वर्णनात्मक, चित्रात्मक, एवं संगीतात्मक भाषा के जरिए ही विषयवस्तु को प्रकट करता है, किंतु नाटक में अभिनय के जरिए विषयवस्तु को प्रत्यक्ष घटित होते हुए दिखलाया जाता है। मध्ययुग के उत्तरार्द्ध में ब्रजभाषा हिंदी में भी कुछ ऐसे नाटक प्रणीत हुए जिनकी मूल प्रकृति तो काव्यपरक ही है, किंतु संवाद-शैली में रचे जाने के कारण उन्हें नाटक की संज्ञा दे दी गयी है। रामायण महानाटक (प्राणचंद चौहान), करुणाभरण (लछिराम), शकुंतला (नेवाज) आदि ऐसे ही नाटक हैं। मध्यकाल में लोकधर्मी नाट्य परम्पराएँ पूरे भारत में अनेक नाम रूपों में व्याप्त रही हैं। उत्तर भारत में 'रास' और 'नौटंकी', मध्यभारत और राजस्थान में 'ख्याल', गुजरात में 'भवार्ई', बिहार में 'कीर्तनिया' और 'अंकिया', दक्षिण में 'यक्षगान' के रूप में लोक नाट्य परंपरा बराबर जीवित रही है। भारतेन्दु के अनुसार विशुद्ध नाटक रीति का ध्यान रखकर हिंदी का सर्वप्रथम मौलिक नाटक 'नहुष' उनके पिता गोपालचंद (गिरधर दास) द्वारा सन् 1859 ई. में लिखा गया था। नया नाटक आज़ादी के बाद सपनों के क्रमशः टूटने से उत्पन्न विवशता और निराशा की संवेदना का नाटक है। यह उल्लेखनीय है कि सन् 1954-55 के बाद सामान्य शिक्षित जनमानस आंतरिक विघटन एवं घुटन का अनुभव करने लगा। मानव-मन में पलने वाली आशाएँ टूटीं, मोह भंग की स्थिति पैदा हुई। नयी पीढ़ी में कुंठा, वर्जना, घुटन, संत्रास, निराशाएँ एवं आशंका ने जन्म लिया। आज़ादी के बाद के नाटकों का मुख्य स्वर यही है।

SubQuestion No : 23

Q.23 नाटक विधा के संदर्भ में असत्य है-

- Ans
- A. नाटक में अभिनय के लिए प्रयोग किये जाने वाले शब्द तभी सार्थक होते हैं जब वह अभिनय को प्रेरित करें।
 - B. नाटक में रचनाकार वर्णनात्मक, चित्रात्मक एवं संगीतात्मक भाषा के जरिये विषयवस्तु को प्रकट करता है।
 - C. नाटक साहित्य की वह विधा है जिसका परीक्षण रंगमंच पर होता है।
 - D. रंगमंचीय गत्यात्मकता ही नाटक का मूल मर्म है।

Question ID : 630680176688

Status : Not Answered

Chosen Option : --

Comprehension:

निम्नलिखित गद्यांश के आधार पर दिए गए प्रश्नों के उत्तर दीजिए।

नाटक साहित्य की वह विधा है जिसका परीक्षण रंगमंच पर होता है और रंगमंच युग विशेष की जनरुचि और तत्कालीन आर्थिक व्यवस्था के आधार पर निर्मित होता है। रंगमंचीय गत्यात्मकता ही नाटक का मूल मर्म है। नाटक की भाषा हरकत की भाषा होती है। अभिनय के लिए प्रयोग किये जानेवाले शब्द या वाक्य तभी सार्थक माने जाते हैं, जब वे कायिक, वाचिक, सात्विक एवं आहार्य अभिनय को उकसाते या प्रेरित करते हैं। दूसरी विधाओं में रचनाकार वर्णनात्मक, चित्रात्मक, एवं संगीतात्मक भाषा के जरिए ही विषयवस्तु को प्रकट करता है, किंतु नाटक में अभिनय के जरिए विषयवस्तु को प्रत्यक्ष घटित होते हुए दिखलाया जाता है। मध्ययुग के उत्तरार्द्ध में ब्रजभाषा हिंदी में भी कुछ ऐसे नाटक प्रणीत हुए जिनकी मूल प्रकृति तो काव्यपरक ही है, किंतु संवाद-शैली में रचे जाने के कारण उन्हें नाटक की संज्ञा दे दी गयी है। रामायण महानाटक (प्राणचंद चौहान), करुणाभरण (लछिराम), शकुंतला (नेवाज) आदि ऐसे ही नाटक हैं। मध्यकाल में लोकधर्मी नाट्य परम्पराएँ पूरे भारत में अनेक नाम रूपों में व्याप्त रही हैं। उत्तर भारत में 'रास' और 'नौटंकी', मध्यभारत और राजस्थान में 'ख्याल', गुजरात में 'भवार्ई', बिहार में 'कीर्तनिया' और 'अंकिया', दक्षिण में 'यक्षगान' के रूप में लोक नाट्य परंपरा बराबर जीवित रही है। भारतेन्दु के अनुसार विशुद्ध नाटक रीति का ध्यान रखकर हिंदी का सर्वप्रथम मौलिक नाटक 'नहुष' उनके पिता गोपालचंद (गिरधर दास) द्वारा सन् 1859 ई. में लिखा गया था। नया नाटक आज़ादी के बाद सपनों के क्रमशः टूटने से उत्पन्न विवशता और निराशा की संवेदना का नाटक है। यह उल्लेखनीय है कि सन् 1954-55 के बाद सामान्य शिक्षित जनमानस आंतरिक विघटन एवं घुटन का अनुभव करने लगा। मानव-मन में पलने वाली आशाएँ टूटीं, मोह भंग की स्थिति पैदा हुई। नयी पीढ़ी में कुंठा, वर्जना, घुटन, संत्रास, निराशाएँ एवं आशंका ने जन्म लिया। आज़ादी के बाद के नाटकों का मुख्य स्वर यही है।

SubQuestion No : 24

Q.24 'आहार्य अभिनय' का अर्थ है-

- Ans A. नाटक में संवादों की सुंदर ढंग से अदायगी
 B. नाटक में केवल वेष-भूषा के बल पर अभिनय
 C. नाटक में अंग-संचालन द्वारा अभिनय
 D. नाटक में भावप्रवण अभिनय

Question ID : 630680176686

Status : Answered

Chosen Option : D

Comprehension:

निम्नलिखित गद्यांश के आधार पर दिए गए प्रश्नों के उत्तर दीजिए।

नाटक साहित्य की वह विधा है जिसका परीक्षण रंगमंच पर होता है और रंगमंच युग विशेष की जनरुचि और तत्कालीन आर्थिक व्यवस्था के आधार पर निर्मित होता है। रंगमंचीय गत्यात्मकता ही नाटक का मूल मर्म है। नाटक की भाषा हरकत की भाषा होती है। अभिनय के लिए प्रयोग किये जानेवाले शब्द या वाक्य तभी सार्थक माने जाते हैं, जब वे कायिक, वाचिक, सात्विक एवं आहार्य अभिनय को उकसाते या प्रेरित करते हैं। दूसरी विधाओं में रचनाकार वर्णनात्मक, चित्रात्मक, एवं संगीतात्मक भाषा के जरिए ही विषयवस्तु को प्रकट करता है, किंतु नाटक में अभिनय के जरिए विषयवस्तु को प्रत्यक्ष घटित होते हुए दिखलाया जाता है। मध्ययुग के उत्तरार्द्ध में ब्रजभाषा हिंदी में भी कुछ ऐसे नाटक प्रणीत हुए जिनकी मूल प्रकृति तो काव्यपरक ही है, किंतु संवाद-शैली में रचे जाने के कारण उन्हें नाटक की संज्ञा दे दी गयी है। रामायण महानाटक (प्राणचंद चौहान), करुणाभरण (लछिराम), शकुंतला (नेवाज) आदि ऐसे ही नाटक हैं। मध्यकाल में लोकधर्मी नाट्य परम्पराएँ पूरे भारत में अनेक नाम रूपों में व्याप्त रही हैं। उत्तर भारत में 'रास' और 'नौटंकी', मध्यभारत और राजस्थान में 'ख्याल', गुजरात में 'भवार्ई', बिहार में 'कीर्तनिया' और 'अंकिया', दक्षिण में 'यक्षगान' के रूप में लोक नाट्य परंपरा बराबर जीवित रही है। भारतेन्दु के अनुसार विशुद्ध नाटक रीति का ध्यान रखकर हिंदी का सर्वप्रथम मौलिक नाटक 'नहुष' उनके पिता गोपालचंद (गिरधर दास) द्वारा सन् 1859 ई. में लिखा गया था। नया नाटक आज़ादी के बाद सपनों के क्रमशः टूटने से उत्पन्न विवशता और निराशा की संवेदना का नाटक है। यह उल्लेखनीय है कि सन् 1954-55 के बाद सामान्य शिक्षित जनमानस आंतरिक विघटन एवं घुटन का अनुभव करने लगा। मानव-मन में पलने वाली आशाएँ टूटीं, मोह भंग की स्थिति पैदा हुई। नयी पीढ़ी में कुंठा, वर्जना, घुटन, संत्रास, निराशाएँ एवं आशंका ने जन्म लिया। आज़ादी के बाद के नाटकों का मुख्य स्वर यही है।

SubQuestion No : 25

Q.25 निम्न में से प्रदेश और उनकी नाट्य परम्पराओं का कौन-सा युग्म असुमेलित है-

- Ans A. उत्तर भारत - नौटंकी
 B. गुजरात - भवार्ई
 C. दक्षिण - यक्षगान
 D. राजस्थान - अंकिया

Question ID : 630680176685

Status : Not Answered

Chosen Option : --

Q.1 Select the grammatically correct sentence.

- Ans A. It has all discovered by accident, as an unexpected side effect of her research.
 B. It was all discovered by accident, as an unexpected side effect of her research.
 C. It was all discover by accident, as an unexpected side effect of her research.
 D. It was all discovering by accident, as an unexpected side effect of her research.

Question ID : 630680176702
Status : Not Answered
Chosen Option : --

Q.2 Select the most appropriate option that can substitute the underlined segment in the given sentence and complete the given proverb. If there is no need to substitute it, select 'No substitution required'.

The ball is in your house

- Ans A. No substitution required
 B. his pocket
 C. your court
 D. my bag

Question ID : 630680176692
Status : Not Answered
Chosen Option : --

Q.3 Parts of a sentence are given below in jumbled order. Arrange the parts in the correct order to form a meaningful sentence.

- A. are witnessing a surge in patients
B. with respiratory problems
C. with the cold wave prevailing over North India,
D. government hospitals in Uttar Pradesh's Lucknow

- Ans A. CBDA
 B. DCBA
 C. CDAB
 D. ADBC

Question ID : 630680176693
Status : Not Answered
Chosen Option : --

Q.4 Select the most appropriate option to fill in the blank.

The Darjeeling Himalayan Railways (DHR) was inscribed on _____ list of World Heritage Sites in 1999.

- Ans A. the
 B. No word required
 C. a
 D. an

Question ID : 630680176704
Status : Not Answered
Chosen Option : --

Q.5 Select the most appropriate synonym of the given word.
Revel

- Ans A. Plead
 B. Opress
 C. Dislike
 D. Rejoice

Question ID : 630680176690
Status : Not Answered
Chosen Option : --

Q.6 Select the most appropriate option to fill in the blanks.
The President of the Republic of Guyana has ____ 200 acres of land in his country ____
exclusive cultivation and production of millets to the private sector in honour of the United
Nations declaring the year 2023 as the International Year of Millet (IYOM).

- Ans A. offered, for
 B. suggested, about
 C. created, to
 D. attempted, in

Question ID : 630680176696
Status : Not Answered
Chosen Option : --

Q.7 The following sentence has been divided into parts. One of them may contain an error.
Select the part that contains the error from the given options. If you don't find any error,
mark 'No error' as your answer.
The Army day parade is conducted every year in Delhi, / however, this year, the parade / will
hold in Karnataka's Bengaluru.

- Ans A. however, this year, the parade
 B. No error
 C. will hold in Karnataka's Bengaluru
 D. The Army day parade is conducted every year in Delhi

Question ID : 630680176707
Status : Not Answered
Chosen Option : --

Q.8 Select the option that can be used as a one-word substitute for the given group of words.
An introductory statement

- Ans A. Preamble
 B. Precinct
 C. Precis
 D. Premise

Question ID : 630680176700
Status : Not Answered
Chosen Option : --

Q.9 The following sentence has been divided into parts. One of them may contain a spelling error. Select the part that contains the error from the given options. If you don't find any error, mark 'No error' as your answer.

In 2008, Tata announced / they were pulling their car / manufacturing investment out of West Bengal.

- Ans A. No error
 B. In 2008, Tata announced
 C. they were pulling their car
 D. manufacturing investment out of West Bengal

Question ID : 630680176708
Status : Not Answered
Chosen Option : --

Q.10 Select the option that can be used as a one-word substitute for the given group of words.
A doctor specialising in the diagnosis and treatment of skin disorders

- Ans A. Haematologist
 B. Cardiologist
 C. Nephrologist
 D. Dermatologist

Question ID : 630680176699
Status : Not Answered
Chosen Option : --

Q.11 The following sentence has been divided into parts. One of them may contain an error. Select the part that contains the error from the given options. If you don't find any error, mark 'No error' as your answer.
No sooner did we heard the announcement / than we rushed towards / the departure gate.

- Ans A. than we rushed towards
 B. No sooner did we heard the announcement
 C. No error
 D. the departure gate

Question ID : 630680176706
Status : Not Answered
Chosen Option : --

Q.12 Sentences of a paragraph are given below in jumbled order. Arrange the sentences in the correct order to form a meaningful and coherent paragraph.

- A. His sheep had been attacked by wolves, which had eaten two of them.
B. Aufschnaiter, losing patience, marched out one afternoon with his loaded sheep and pitched his camp a few miles away from Tradun.
C. We helped him to carry his things there and intended to visit him the next day.
D. But the next day, to our surprise, Aufschnaiter came back to us with his baggage.

- Ans A. BDCA
 B. BCDA
 C. DCBA
 D. ABDC

Question ID : 630680176694
Status : Not Answered
Chosen Option : --

Q.13 Select the option that can be used as a one-word substitute for the given group of words.
A thing that motivates or encourages someone to do something

- Ans A. Inheritance
 B. Invention
 C. Incentive
 D. Instrument

Question ID : 630680176701
Status : Not Answered
Chosen Option : --

Q.14 Select the most appropriate ANTONYM of the given word.
Refined

- Ans A. Rough
 B. Polished
 C. Delicate
 D. Elegant

Question ID : 630680176689
Status : Not Answered
Chosen Option : --

Q.15 Select the most appropriate option to fill in the blanks.
The police superintendent walked across the market square ____ a new overcoat and carrying a parcel under his arm. A red-haired policeman strode ____ him with a basket full of confiscated strawberries in his hands.

- Ans A. wore, about
 B. wear, for
 C. wearing, after
 D. wears, with

INDIA

Question ID : 630680176695
Status : Not Answered
Chosen Option : --

Q.16 Select the most appropriate option to fill in the blanks.
We are well aware of the ____ mountain in the world, the mighty Mount Everest, submitted by several mountaineers now! But, how many of us are ____ of the tallest 'unclimbed' mountain in the world? Yes, we are talking ____ Bhutan's Gangkhar Puensum, also known as 'White Peak of the Three Spiritual Brothers'.

- Ans A. most tall, attentive, around
 B. taller, alert, across
 C. tallest, aware, about
 D. tall, awake, along

Question ID : 630680176697
Status : Not Answered
Chosen Option : --

Q.17 Select the most appropriate option to fill in the blanks.

A child was standing on a street-corner. He leaned with one shoulder ____ a high board-fence and swayed the other to and fro, while kicking ____ at the gravel. Sunshine beat upon the cobbles, and a lazy summer wind ____ yellow dust which trailed in clouds down the avenue.

- Ans
- A. along, readily, jumped
 - B. against, carelessly, raised
 - C. about, badly, suggested
 - D. across, probably, boosted

Question ID : 630680176698

Status : Not Answered

Chosen Option : --

Q.18 Select the most appropriate option that can substitute the underlined segment in the given sentence and complete the given proverb. If there is no need to substitute it, select 'No substitution required'.

A small child makes much noise.

- Ans
- A. An angry man
 - B. No substitution required
 - C. An empty vessel
 - D. A loud radio

Question ID : 630680176691

Status : Not Answered

Chosen Option : --

Q.19 Select the most appropriate option to fill in the blank.

Recently, the Ministry of Railways has tweeted ____ video in which it shows how a passenger train is traversing through the snow covered Baramulla-Banihal stretch of Jammu and Kashmir.

- Ans
- A. the
 - B. No word required
 - C. an
 - D. a

Question ID : 630680176705

Status : Not Answered

Chosen Option : --

Q.20 Select the grammatically correct sentence.

- Ans
- A. He made a sound that was somewhere between a laugh and a cry.
 - B. He made a sound that was somewhere across a laugh and a cry.
 - C. He made a sound that was somewhere among a laugh and a cry.
 - D. He made a sound that was somewhere through a laugh and a cry.

Question ID : 630680176703

Status : Not Answered

Chosen Option : --

Comprehension:

Read the given passage and answer the questions that follow.

Prime Minister Narendra Modi flagged off the Ganga river cruise from Varanasi on Friday, 13 January 2022. The 51-day cruise, being pitched as the world's longest river cruise, is expected to reach its final destination – Dibrugarh in Assam – on 1 March.

"The beginning of the world's longest river cruise service on river Ganga is a landmark moment. It will herald a new age of tourism in India," the Prime Minister said while flagging off the cruise virtually via video conference. He added that the cruise service will boost tourism and create new job opportunities.

Set to sail from Varanasi, the cruise ship, MV Ganga Vilas, will cover 3,200 km over 51 days, crossing 27 river systems and several states before ending its journey at Dibrugarh. The voyage is packed with visits to 50 tourist spots, including World Heritage spots, national parks, river ghats, and major cities like Patna in Bihar, Sahibganj in Jharkhand, Kolkata in West Bengal, Dhaka in Bangladesh and Guwahati in Assam.

It will make pit-stops to cover the famous Ganga Arti in Varanasi, the Buddhist site of Sarnath, and even Majuli, the largest river island in Assam. The travellers will also visit the Bihar School Of Yoga and Vikramshila University. The cruise will traverse through the Sunderbans in the Bay of Bengal delta, as well as the Kaziranga National Park.

The vessel has three decks, 18 suites on board with a capacity of 36 tourists, with all the luxury amenities. The maiden voyage has 32 tourists from Switzerland signing up for the entire length of the journey.

While it will be managed by private operators, the Inland Waterways Authority of India (IWAI), under the Ministry of Shipping, Ports and Waterways (MoPSW), has supported the project.

The operator has already planned MV Ganga Vilas's next voyage for the month of September this year, and bookings will open shortly. The tickets can be booked from the website of Antara river cruises.

SubQuestion No : 21

Q.21 After reading the passage it can be inferred that it is:

- Ans
- A. a news article
 - B. an advertisement for the river cruise
 - C. a programme schedule of the cruise
 - D. a Government press release

Question ID : 630680176710

Status : Not Answered

Chosen Option : --

Comprehension:

Read the given passage and answer the questions that follow.

Prime Minister Narendra Modi flagged off the Ganga river cruise from Varanasi on Friday, 13 January 2022. The 51-day cruise, being pitched as the world's longest river cruise, is expected to reach its final destination – Dibrugarh in Assam – on 1 March.

"The beginning of the world's longest river cruise service on river Ganga is a landmark moment. It will herald a new age of tourism in India," the Prime Minister said while flagging off the cruise virtually via video conference. He added that the cruise service will boost tourism and create new job opportunities.

Set to sail from Varanasi, the cruise ship, MV Ganga Vilas, will cover 3,200 km over 51 days, crossing 27 river systems and several states before ending its journey at Dibrugarh. The voyage is packed with visits to 50 tourist spots, including World Heritage spots, national parks, river ghats, and major cities like Patna in Bihar, Sahibganj in Jharkhand, Kolkata in West Bengal, Dhaka in Bangladesh and Guwahati in Assam.

It will make pit-stops to cover the famous Ganga Arti in Varanasi, the Buddhist site of Sarnath, and even Majuli, the largest river island in Assam. The travellers will also visit the Bihar School Of Yoga and Vikramshila University. The cruise will traverse through the Sunderbans in the Bay of Bengal delta, as well as the Kaziranga National Park.

The vessel has three decks, 18 suites on board with a capacity of 36 tourists, with all the luxury amenities. The maiden voyage has 32 tourists from Switzerland signing up for the entire length of the journey.

While it will be managed by private operators, the Inland Waterways Authority of India (IWAI), under the Ministry of Shipping, Ports and Waterways (MoPSW), has supported the project. The operator has already planned MV Ganga Vilas's next voyage for the month of September this year, and bookings will open shortly. The tickets can be booked from the website of Antara river cruises.

SubQuestion No : 22

Q.22 What is the passage mainly about?

- Ans
- A. The sights to be seen during the river cruise
 - B. The cruise ship called Ganga Vilas
 - C. The starting of the Ganga River Cruise
 - D. The river tourism in India

Question ID : 630680176711

Status : Not Answered

Chosen Option : --

Comprehension:

Read the given passage and answer the questions that follow.

Prime Minister Narendra Modi flagged off the Ganga river cruise from Varanasi on Friday, 13 January 2022. The 51-day cruise, being pitched as the world's longest river cruise, is expected to reach its final destination – Dibrugarh in Assam – on 1 March.

"The beginning of the world's longest river cruise service on river Ganga is a landmark moment. It will herald a new age of tourism in India," the Prime Minister said while flagging off the cruise virtually via video conference. He added that the cruise service will boost tourism and create new job opportunities.

Set to sail from Varanasi, the cruise ship, MV Ganga Vilas, will cover 3,200 km over 51 days, crossing 27 river systems and several states before ending its journey at Dibrugarh. The voyage is packed with visits to 50 tourist spots, including World Heritage spots, national parks, river ghats, and major cities like Patna in Bihar, Sahibganj in Jharkhand, Kolkata in West Bengal, Dhaka in Bangladesh and Guwahati in Assam.

It will make pit-stops to cover the famous Ganga Arti in Varanasi, the Buddhist site of Sarnath, and even Majuli, the largest river island in Assam. The travellers will also visit the Bihar School Of Yoga and Vikramshila University. The cruise will traverse through the Sunderbans in the Bay of Bengal delta, as well as the Kaziranga National Park.


The vessel has three decks, 18 suites on board with a capacity of 36 tourists, with all the luxury amenities. The maiden voyage has 32 tourists from Switzerland signing up for the entire length of the journey.

While it will be managed by private operators, the Inland Waterways Authority of India (IWAI), under the Ministry of Shipping, Ports and Waterways (MoPSW), has supported the project. The operator has already planned MV Ganga Vilas's next voyage for the month of September this year, and bookings will open shortly. The tickets can be booked from the website of Antara river cruises.

SubQuestion No : 23

Q.23 The word 'traverse' in the passage means all of the following EXCEPT:

- Ans
- A. travel over
 - B. cut across
 - C. stay over
 - D. pass through



Question ID : 630680176713

Status : Not Answered

Chosen Option : --

Comprehension:

Read the given passage and answer the questions that follow.

Prime Minister Narendra Modi flagged off the Ganga river cruise from Varanasi on Friday, 13 January 2022. The 51-day cruise, being pitched as the world's longest river cruise, is expected to reach its final destination – Dibrugarh in Assam – on 1 March.

"The beginning of the world's longest river cruise service on river Ganga is a landmark moment. It will herald a new age of tourism in India," the Prime Minister said while flagging off the cruise virtually via video conference. He added that the cruise service will boost tourism and create new job opportunities.

Set to sail from Varanasi, the cruise ship, MV Ganga Vilas, will cover 3,200 km over 51 days, crossing 27 river systems and several states before ending its journey at Dibrugarh. The voyage is packed with visits to 50 tourist spots, including World Heritage spots, national parks, river ghats, and major cities like Patna in Bihar, Sahibganj in Jharkhand, Kolkata in West Bengal, Dhaka in Bangladesh and Guwahati in Assam.

It will make pit-stops to cover the famous Ganga Arti in Varanasi, the Buddhist site of Sarnath, and even Majuli, the largest river island in Assam. The travellers will also visit the Bihar School Of Yoga and Vikramshila University. The cruise will traverse through the Sunderbans in the Bay of Bengal delta, as well as the Kaziranga National Park.

The vessel has three decks, 18 suites on board with a capacity of 36 tourists, with all the luxury amenities. The maiden voyage has 32 tourists from Switzerland signing up for the entire length of the journey.

While it will be managed by private operators, the Inland Waterways Authority of India (IWAI), under the Ministry of Shipping, Ports and Waterways (MoPSW), has supported the project. The operator has already planned MV Ganga Vilas's next voyage for the month of September this year, and bookings will open shortly. The tickets can be booked from the website of Antara river cruises.

SubQuestion No : 24

Q.24 Match the following.

Name of the place	Its special feature
a. Sarnath	1. Ganga Aarti
b. Majuli	2. Buddhist site
c. Varanasi	3. Largest river island in Assam

- Ans
- A. a-1, b-3, c-2
 - B. a-2, b-1, c-3
 - C. a-2, b-3, c-1
 - D. a-3, b-1, c-2

Question ID : 630680176712

Status : Not Answered

Chosen Option : --

Comprehension:

Read the given passage and answer the questions that follow.

Prime Minister Narendra Modi flagged off the Ganga river cruise from Varanasi on Friday, 13 January 2022. The 51-day cruise, being pitched as the world's longest river cruise, is expected to reach its final destination – Dibrugarh in Assam – on 1 March.

"The beginning of the world's longest river cruise service on river Ganga is a landmark moment. It will herald a new age of tourism in India," the Prime Minister said while flagging off the cruise virtually via video conference. He added that the cruise service will boost tourism and create new job opportunities.

Set to sail from Varanasi, the cruise ship, MV Ganga Vilas, will cover 3,200 km over 51 days, crossing 27 river systems and several states before ending its journey at Dibrugarh. The voyage is packed with visits to 50 tourist spots, including World Heritage spots, national parks, river ghats, and major cities like Patna in Bihar, Sahibganj in Jharkhand, Kolkata in West Bengal, Dhaka in Bangladesh and Guwahati in Assam.

It will make pit-stops to cover the famous Ganga Arti in Varanasi, the Buddhist site of Sarnath; and even Majuli, the largest river island in Assam. The travellers will also visit the Bihar School Of Yoga and Vikramshila University. The cruise will traverse through the Sunderbans in the Bay of Bengal delta, as well as the Kaziranga National Park.

The vessel has three decks, 18 suites on board with a capacity of 36 tourists, with all the luxury amenities. The maiden voyage has 32 tourists from Switzerland signing up for the entire length of the journey.

While it will be managed by private operators, the Inland Waterways Authority of India (IWAI), under the Ministry of Shipping, Ports and Waterways (MoPSW), has supported the project. The operator has already planned MV Ganga Vilas's next voyage for the month of September this year, and bookings will open shortly. The tickets can be booked from the website of Antara river cruises.

SubQuestion No : 25

Q.25 Which agency is directly operating the Ganga River Cruise?

- Ans
- A. The Antara River Cruises
 - B. The Ministry of Tourism, Govt. of India
 - C. The Inland Waterways Authority of India
 - D. The Ministry of Shipping, Ports and Waterways

Question ID : 630680176714

Status : Not Answered

Chosen Option : --

Section : General Aptitude

Q.1 भारत के विभिन्न राज्यों में खनिजों के बारे में निम्नलिखित में से कौन से कथन सही हैं?

- I. तमिलनाडु ने 2020-21 के दौरान मैग्नेसाइट (magnesite) के कुल उत्पादन में 60.9% का योगदान दिया था।
- II. राजस्थान ने 2020-21 के दौरान फॉस्फोराइट (phosphorite) के कुल उत्पादन में 93.27% का योगदान दिया था।
- III. गुजरात देश के कुल उत्पादन में 34.3% योगदान के साथ मैंगनीज अयस्क (manganese ore) का सबसे बड़ा उत्पादक बना हुआ है।

- Ans
- A. I, II और III
 - B. केवल I और II
 - C. केवल I और III
 - D. केवल II और III

Question ID : 630680176735

Status : Not Answered

Chosen Option : --

Q.2 निम्नलिखित में से कौन सी भारतीय खेल प्राधिकरण (Sports Authority of India (SAI)) द्वारा कार्यान्वित खेल प्रोत्साहन योजना (Sports Promotional Scheme) नहीं है?

- Ans A. राष्ट्रीय/क्षेत्रीय/राज्य खेल अकादमियों को समर्थन - खेलो इंडिया योजना (Khelo India Scheme) के एक कार्यक्षेत्र के तहत, खेल अकादमियों को खेलो इंडिया एथलीटों (Khelo India athletes) के प्रशिक्षण के लिए मान्यता दी जाती है।
- B. प्रतिभा की पहचान करने के लिए भारत को; उत्तर, पूर्व, पश्चिम, दक्षिण और उत्तर-पूर्व क्षेत्रों जैसे पांच क्षेत्रों में बांटा गया है।
- C. 14 से 18 वर्ष के आयु वर्ग में 22 खेल विधाओं में प्रतिभा की पहचान की जाती है, जिसमें देश के पास अंतरराष्ट्रीय स्तर पर उत्कृष्टता प्राप्त करने की क्षमता या लाभ है।
- D. खेलो इंडिया योजना के 'प्रतिभा खोज और विकास' ('Talent Search and Development') कार्यक्षेत्र के तहत, निर्धारित किए गए और चयनित एथलीटों को प्रति वर्ष प्रति एथलीट ₹6.28 लाख की वार्षिक वित्तीय सहायता प्रदान की जाती है।

Question ID : 630680176722

Status : Not Answered

Chosen Option : --

Q.3 शाह कुली खां (Shah Quli Khan) का मकबरा कहां स्थित है ?

- Ans A. हरियाणा
- B. पंजाब
- C. उत्तर प्रदेश
- D. तेलंगाना

Question ID : 630680176726

Status : Not Answered

Chosen Option : --

Q.4 ऑक्सम इंडिया (Oxam India) यह सुनिश्चित करने के लिए काम करता है कि आदिवासियों, दलितों, मुस्लिमों और महिलाओं और लड़कियों के पास अपने मन की बात कहने की स्वतंत्रता के साथ सुरक्षित, हिंसा मुक्त जीवन हो, अपने अधिकारों को महसूस करने के समान अवसर और भेदभाव मुक्त भविष्य हो। ऑक्सम इंडिया (Oxam India) का मुख्यालय कहां स्थित है?

- Ans A. भुवनेश्वर
- B. नई दिल्ली
- C. कोलकाता
- D. पटना

Question ID : 630680176717

Status : Answered

Chosen Option : B

Q.5 अचू रानी ने 2022 में भारतीय ओपन भाला फेंक प्रतियोगिता (Indian Open Javelin Throw Competition) में _____ की दूरी पर अपना भाला फेंक कर एक रेकॉर्ड बनाया।

- Ans A. 63.82 m
- B. 65.25 m
- C. 89.94 m
- D. 72.86 m

Question ID : 630680176721

Status : Answered

Chosen Option : A

Q.6 पंचनद (Panjnad) पंजाब की पांच नदियों को दिया गया नाम है। उस नदी की पहचान करें जो उनमें से एक नहीं है।

- Ans
- A. ब्यास
 - B. बेतवा
 - C. झेलम
 - D. चिनाब

Question ID : 630680176734
Status : Answered
Chosen Option : B

Q.7 कोलकाता मेट्रो सेवा (Kolkata Metro Service) के बारे में दिए गए जोड़े में से कौन-सा/से सही है/हैं?

- I. 1972 - 29 दिसंबर को मेट्रो रेलवे कोलकाता की आधारशिला रखी गई थी।
- II. 1984 - 24 अक्टूबर को मेट्रो रेलवे, कोलकाता, भारत की पहली मेट्रो शुरू की गई थी।
- III. 2013 - 29 दिसंबर को मेट्रो रेलवे को जोनल रेलवे का दर्जा दिया गया था।

- Ans
- A. केवल I और II
 - B. केवल I
 - C. केवल II और III
 - D. केवल III

Question ID : 630680176737
Status : Not Answered
Chosen Option : --

Q.8 जैव-संदीप्ति (Bioluminescence) (प्रकाश उत्सर्जित करने के लिए एक जीवित जीव के गुण) _____ में भली-भांति चिह्नित है।

- Ans
- A. कंकतधर/टीनोफोर (ctenophores)
 - B. संधिपाद (arthropods)
 - C. स्पंज (sponges)
 - D. शूलचर्मी/एकाइनोडर्म (echinoderms)

Question ID : 630680176738
Status : Not Answered
Chosen Option : --

Q.9 2024 तक, निम्नलिखित में से किस राज्य सरकार द्वारा संचालित विद्यालय में एक 'विज्ञान नवाचार हब' ('Science Innovation Hub') होगा, जिसमें विद्यार्थियों के बीच वैज्ञानिक संस्कृति और स्वभाव को बढ़ावा देने के लिए एक ताराघर और एक संग्रहालय सहित सभी आधुनिक और नवीनतम सुविधाएं होंगी?

- Ans
- A. हैदराबाद
 - B. चेन्नई
 - C. बेंगलुरु
 - D. दिल्ली

Question ID : 630680176715
Status : Answered
Chosen Option : C

Q.10 निम्नलिखित प्रश्नों के उत्तर के सही सेट के साथ विकल्प की पहचान करें।

I. भारत का तोता 'तूती-ए-हिंद' ('Tut-i-Hind') की उपाधि किसने अर्जित की?

II. 'रागदर्पण' 'Ragadarpan' (संगीत पर भारतीय शास्त्रीय कृति) का फ़ारसी में अनुवाद किसने शुरू किया था?

- Ans
- A. I. अमीर खुसरो II. अलाउद्दीन खिलजी
 - B. I. मीर तकी मीर II. गयासुद्दीन तुगलक
 - C. I. अमीर खुसरो II. फ़िरोज़ तुगलक
 - D. I. फ़ैज़ी II. मुहम्मद-बिन-तुगलक

Question ID : 630680176723

Status : Answered

Chosen Option : C

Q.11 भारत सरकार ने देश के हवाई खेल क्षेत्र को सुरक्षित, किफायती, सुलभ, सुखद और टिकाऊ बनाने के लिए किस वर्ष राष्ट्रीय वायु खेल नीति { National Air Sports Policy (NASP)} का मसौदा तैयार किया था?

- Ans
- A. 2022
 - B. 2018
 - C. 2019
 - D. 2021

Question ID : 630680176720

Status : Not Answered

Chosen Option : --

Q.12 भारतीय शास्त्रीय संगीत और नृत्य के प्रचार-प्रसार के लिए कार्य करने वाला अखिल भारतीय गंधर्व महाविद्यालय मंडल (Akhil Bharatiya Gandharva Mahavidyalaya Mandal) कहाँ स्थित है?

- Ans
- A. मुंबई
 - B. नई दिल्ली
 - C. भोपाल
 - D. लखनऊ

INDIA

Question ID : 630680176727

Status : Answered

Chosen Option : A

Q.13 _____ लकड़ी और स्टील से बना एक तार वाला वाद्य यंत्र है। यह एक ड्रोन यंत्र है जो कर्नाटक में पाया जाता है। यह मुख्य रूप से कर्नाटक के भक्ति गायकों और भिक्षुकों द्वारा उपयोग किया जाता है।

- Ans
- A. वायलिन
 - B. मृदंग
 - C. वीणा
 - D. तंबूरी

Question ID : 630680176729

Status : Answered

Chosen Option : B

Q.14 कर्नाटक संगीत में अपने योगदान के लिए, चेन्नई को _____ में यूनेस्को के रचनात्मक शहरों के नेटवर्क (UNESCO Creative Cities Network) में शामिल किया गया था।

- Ans A. 2017
 B. 2018
 C. 2016
 D. 2014

Question ID : 630680176728
Status : Not Answered
Chosen Option : --

Q.15 वैश्विक भुखमरी सूचकांक 2022 (Global Hunger Index (GHI)) के संबंध में निम्नलिखित में से कौन-सा/से कथन सही है/हैं?

- I. वैश्विक भुखमरी सूचकांक (Global Hunger Index (GHI)) 2022 के अनुसार, भारत ने शून्य (जिसका अर्थ है कोई भूख नहीं) से सौ (एक अत्यंत चिंताजनक स्थिति) के पैमाने पर 39.1 स्कोर प्राप्त किया।
II. GHI 2022 स्कोर की गणना करने के लिए पर्याप्त डेटा वाले 121 देशों में से भारत 100वें स्थान पर है।
III. GHI रिपोर्ट 2022 ने भारत को 'गंभीर श्रेणी' में रखा है।

- Ans A. केवल I और II
 B. केवल I
 C. केवल III
 D. केवल II और III

Question ID : 630680176719
Status : Not Answered
Chosen Option : --

Q.16 निम्नलिखित में से कौन-सा एक ऑनलाइन कार्यप्रवाह-आधारित वक्फ संपत्ति प्रबंधन प्रणाली (Waqf Properties Management System) है?

- Ans A. WBMS
 B. WARSİ
 C. WPMS
 D. WAMSİ

Question ID : 630680176718
Status : Not Answered
Chosen Option : --

Q.17 दिए गए जोड़ों में से कौन से जोड़े सुमेलित हैं?

- I. काकोरी डकैती हुई - 1925
II. चंद्रशेखर आज़ाद पुलिस मुठभेड़ में मारे गए - 1929
III. भगत सिंह, राजगुरु, सुखदेव को फांसी - 1931

- Ans A. I, II और III
 B. केवल I और II
 C. केवल I और III
 D. केवल II और III

Question ID : 630680176725
Status : Answered
Chosen Option : A

Q.18 शास्त्रीय हिंदुस्तानी संगीत में पंडित विष्णु नारायण भातखंडे (Pandit Vishnu Narayan Bhatkhande) की स्वरलिपि प्रणाली के संबंध में निम्नलिखित में से कौन से कथन सही हैं?
I. कोमल स्वर (Komal Svava) को स्वर के नीचे क्षैतिज रेखा द्वारा दर्शाया जाता है
II. तीव्र स्वर (Tivra Svava) को मध्यम के ऊपर लंब रेखा द्वारा दर्शाया जाता है
III. मंद्र सप्तक (Mandra Saptak) को स्वरों के ऊपर बिंदु द्वारा दर्शाया जाता है
IV. तार सप्तक (Tara Saptak) को स्वरों के नीचे बिंदु द्वारा दर्शाया जाता है

- Ans
- A. केवल I, II और III
 - B. केवल I और IV
 - C. केवल I, III और IV
 - D. केवल I और II

Question ID : 630680176730
Status : Not Answered
Chosen Option : --

Q.19 चम्बेटी श्रीधरालु नायडू (Chembeti Sridharalu Naidu) _____ के सबसे लोकप्रिय नेता थे।

- Ans
- A. वेद समाज
 - B. परमहंस मंडली
 - C. प्रार्थना समाज
 - D. पूना सार्वजनिक सभा

Question ID : 630680176724
Status : Not Answered
Chosen Option : --

Q.20 12 दिसंबर 2022 तक, इनमें से कौन उन छह कंपनियों में से एक नहीं है, जिसे भारतीय रिज़र्व बैंक (Reserve Bank of India (RBI)) द्वारा खाता एग्रीगेटर (Account Aggregator (AA)) के रूप में पंजीकरण का प्रमाणपत्र प्रदान किया गया था?

- Ans
- A. कैम्स फाइनेंशियल इंफॉर्मेशन सर्विसेज प्राइवेट लिमिटेड (Cams Financial Information Services Private Limited)
 - B. योडली फिनसॉफ्ट प्राइवेट लिमिटेड (YodleeFinsoft Private Limited)
 - C. ग्लोबल एए सॉल्यूशंस प्राइवेट लिमिटेड (Global AA Solutions Private Limited)
 - D. नेशनल ई-गवर्नेंस सर्विसेज लिमिटेड (NESL) एसेट डेटा लिमिटेड (National E-Governance Services Limited (NESL) Asset Data Limited)

Question ID : 630680176733
Status : Not Answered
Chosen Option : --

Q.21 निम्नलिखित में से कौन सा/से कथन सही है/हैं?

- I. अल्पकालिक सीमांत लागत {Short run marginal cost (SMC)} को उत्पादन में परिवर्तन की प्रति इकाई कुल लागत में परिवर्तन के रूप में परिभाषित किया गया है।
II. औसत परिवर्ती लागत {average variable cost (AVC)} को उत्पादन की प्रति इकाई कुल परिवर्ती लागत के रूप में परिभाषित किया गया है।
III. अल्पकालिक औसत लागत {Short run average cost (SAC)} जो फर्म द्वारा वहन की जाती है, को उत्पादन की प्रति इकाई कुल लागत के रूप में परिभाषित किया जाता है।
IV. इन निश्चित आगतों को नियोजित करने के लिए एक फर्म द्वारा वहन की जाने वाली लागत को कुल निश्चित लागत {total fixed cost (TFC)} कहा जाता है।

- Ans A. I, II, III और IV
 B. केवल III और IV
 C. केवल I और II
 D. केवल IV

Question ID : 630680176732

Status : Not Answered

Chosen Option : --

Q.22 2011 की जनगणना के अनुसार, किस केंद्र शासित प्रदेश का लिंगानुपात सबसे अधिक है?

- Ans A. दादरा और नगर हवेली
 B. लक्षद्वीप
 C. दमन और दीव
 D. पुदुचेरी

Question ID : 630680176736

Status : Answered

Chosen Option : D

Q.23 निम्नलिखित में से किस IIT और अस्पताल ने जनवरी 2023 में, AI के नैदानिक अनुप्रयोग और स्वास्थ्य सेवा प्रौद्योगिकी में पारस्परिक हित के अन्य क्षेत्रों में सहयोगी अनुसंधान के लिए एक समझौते पर हस्ताक्षर किया?

- Ans A. भारतीय प्रौद्योगिकी संस्थान (IIT) बॉम्बे और अपोलो अस्पताल (The Indian Institute of Technology (IIT) Bombay and Apollo Hospitals)
 B. भारतीय प्रौद्योगिकी संस्थान (IIT) हैदराबाद और कोकिलाबेन धीरूभाई अंबानी अस्पताल (The Indian Institute of Technology (IIT) Hyderabad and Kokilaben Dhirubhai Ambani Hospital)
 C. भारतीय प्रौद्योगिकी संस्थान (IIT) गुवाहाटी और फोर्टिस हॉस्पिटल (The Indian Institute of Technology (IIT) Guwahati and Fortis Hospital)
 D. भारतीय प्रौद्योगिकी संस्थान (IIT) कानपुर और अपोलो अस्पताल (The Indian Institute of Technology (IIT) Kanpur and Apollo Hospitals)

Question ID : 630680176716

Status : Not Answered

Chosen Option : --

Q.24 भारत के संविधान के किस भाग में राष्ट्रपति के रूप में चुनाव के लिए योग्यताओं का उल्लेख किया गया है?

- Ans A. भाग II
 B. भाग VIII
 C. भाग V
 D. भाग VI

Question ID : 630680176739

Status : Answered

Chosen Option : C

Q.25 ओरिएंटल बैंक ऑफ कॉमर्स (Oriental Bank of Commerce) और यूनाइटेड बैंक ऑफ इंडिया (United Bank of India) का विलय _____ में किया गया था।

- Ans
- A. सेंट्रल बैंक ऑफ इंडिया (Central Bank of India)
 - B. इंडियन ओवरसीज़ बैंक (Indian Overseas Bank)
 - C. बैंक ऑफ बड़ौदा (Bank of Baroda)
 - D. पंजाब नेशनल बैंक (Punjab National Bank)

Question ID : 630680176731

Status : Answered

Chosen Option : A

Section : General Intelligence

Q.1 दी गई संख्या, प्रतीक श्रृंखला का संदर्भ लें और दिए गए प्रश्न का उत्तर दें।
(बाएं) @ 5 6 4 % * 5 ¥ 2 9 @ 2 # 4 \$ 5 @ 2 & 5 1 & 5 # 1 6 4 (दाएं)
ऐसी कितनी संख्याएँ हैं जिनके ठीक बाद में एक संख्या है और ठीक पहले एक प्रतीक भी है?

- Ans
- A. 1
 - B. 4
 - C. 3
 - D. 2

Question ID : 630680176747

Status : Answered

Chosen Option : C

Q.2 उस विकल्प का चयन करें जो पांचवें अक्षर-समूह से उसी प्रकार संबंधित है जिस प्रकार दूसरा अक्षर-समूह पहले अक्षर-समूह से और चौथा अक्षर-समूह तीसरे अक्षर-समूह से संबंधित है।
SUN : TWQ :: TUE : UWH :: FRI : ?

- Ans
- A. GSM
 - B. GSL
 - C. GTM
 - D. GTL

Question ID : 630680176755

Status : Answered

Chosen Option : D

Q.3 इस प्रश्न में, संख्याओं/प्रतीकों के एक समूह को नीचे दी गई तालिका और शर्तों के अनुसार अक्षरों का उपयोग करके कूटबद्ध किया गया है। शर्तों का पालन करते हुए कूटों का सही संयोजन ही आपका उत्तर है।

संख्या / प्रतीक	5	4	&	3	#	+	7	*	%	6
अक्षर कूट	M	Q	B	G	E	T	S	L	O	A

शर्तें :

- (i) यदि पहला तत्व एक प्रतीक है और अंतिम, एक संख्या है, तो इन दोनों (पहले और अंतिम तत्वों) के कूटों को आपस में बदलना है।
- (ii) यदि पहला तत्व एक विषम संख्या है और अंतिम, एक सम संख्या है, तो पहले और अंतिम तत्वों को \$ के रूप में कूटबद्ध किया जाना है।

निम्नलिखित में से कौन सा &4#+7 के लिए कूट होगा?

- Ans A. \$QEL\$
 B. SMTLB
 C. SQELB
 D. BQELS

Question ID : 630680176750

Status : Not Answered

Chosen Option : --

Q.4 Z, X, C, V, B, N और M में से प्रत्येक को सोमवार से शुरू होने वाले और रविवार को समाप्त होने वाले उसी सप्ताह के अलग-अलग दिन पिकनिक में रहना है। केवल B को N से पहले पिकनिक में रहना है। M को C के ठीक बाद पिकनिक में रहना है, लेकिन रविवार को नहीं। केवल X को Z और N के बीच पिकनिक में रहना है। शनिवार को पिकनिक में किसको रहना है?

- Ans A. C
 B. M
 C. V
 D. X



Question ID : 630680176741

Status : Answered

Chosen Option : D

Q.5 अक्षरों के उस संयोजन का चयन करें जो दी गई श्रृंखला के रिक्त स्थानों में क्रमिक रूप से रखे जाने पर श्रृंखला को पूरा करेगा।

A _ S D A W _ D A W S _ _ W S D

- Ans A. WSAD
 B. AWSD
 C. WSDA
 D. WDSA

Question ID : 630680176745

Status : Answered

Chosen Option : C

Q.6 पांच दोस्तों M, N, O, P और Q के एक समूह में सबकी लंबाई अलग-अलग है। समूह में N की लंबाई सबसे कम है। Q, O से लंबा है। M, P से लंबा है। O, M से लंबा है। उनमें से तीसरा सबसे लंबा कौन है?

- Ans
- A. Q
 - B. P
 - C. M
 - D. O

Question ID : 630680176744

Status : Answered

Chosen Option : C

Q.7 दिए गए विकल्पों में से उस संख्या का चयन करें जो निम्नलिखित श्रृंखला में प्रश्नवाचक चिह्न (?) को प्रतिस्थापित कर सकती है।
55, 60, 70, 90, 130, ?

- Ans
- A. 220
 - B. 215
 - C. 205
 - D. 210

Question ID : 630680176763

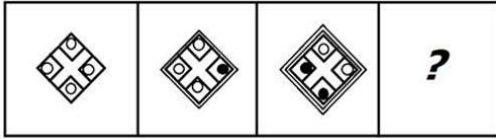
Status : Answered

Chosen Option : D



INDIA

Q.8 दिए गए विकल्पों में से उस आकृति का चयन करें जो नीचे दी गई श्रृंखला में प्रश्नवाचक चिह्न (?) को प्रतिस्थापित कर सकती है।



Ans

A.



B.



C.



D.



Question ID : 630680176761

Status : Answered

Chosen Option : C

Q.9 संख्या 5473591688234 में प्रत्येक अंक को बाएं से दाएं बढ़ते क्रम में व्यवस्थित किया गया है। मूल संख्या की तुलना में कितने अंकों की स्थिति अपरिवर्तित रहेगी?

Ans A. 2

B. 0

C. 1

D. 3

Question ID : 630680176764

Status : Not Answered

Chosen Option : --

Q.10 चार अक्षर-समूह दिए गए हैं, जिनमें से तीन किसी प्रकार से एक समान हैं और एक असंगत है। उसका चयन करें जो असंगत है।

- Ans A. RSQT
 B. VWUX
 C. BCAE
 D. GHFI

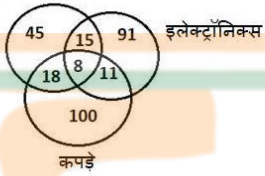
Question ID : 630680176757

Status : Answered

Chosen Option : C

Q.11 दिए गए आरेख का ध्यानपूर्वक अध्ययन करें और प्रश्न का उत्तर दें। अलग-अलग वर्गों में संख्याएं शहर में उन दुकानों की संख्या दर्शाती हैं जिनमें अलग-अलग वस्तुएं बेची जाती हैं।

किराने का सामान



ऐसी कितनी दुकानें हैं जहां या तो केवल कपड़े या केवल इलेक्ट्रॉनिक्स वस्तुएं बेची जाती हैं?

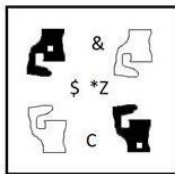
- Ans A. 100
 B. 91
 C. 191
 D. 19

Question ID : 630680176743

Status : Answered

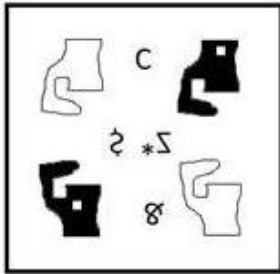
Chosen Option : C

Q.12 जब दर्पण को दाईं ओर रखा जाता है, तो दी गई आकृति की बनने वाली सही दर्पण छवि का चयन करें।



Ans

✗ A.



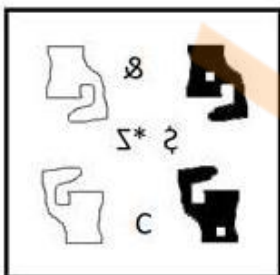
✗ B.



✓ C.



✗ D.



Question ID : 630680176762

Status : Answered

Chosen Option : C

Q.13 शब्द "SUPPORT" (आगे और पीछे, दोनों दिशाओं में) में अक्षरों के ऐसे कितने युग्म हैं जिनके बीच उतने ही अक्षर हैं जितने अंग्रेजी वर्णमाला क्रम में हैं?

- Ans
- A. 6
 - B. 7
 - C. 5
 - D. 4

Question ID : 630680176749

Status : Answered

Chosen Option : D

Q.14 P, Q, R, S, T, U और V में से प्रत्येक को सोमवार से शुरू होने वाले और रविवार को समाप्त होने वाले उसी सप्ताह के अलग-अलग दिन एक समारोह में शामिल होना है। S को Q, P या R से पहले किसी एक दिन समारोह में शामिल होना है। V को रविवार को समारोह में शामिल होना है। केवल U को P और R के बीच समारोह में शामिल होना है। T को P से ठीक पहले समारोह में शामिल होना है। Q को मंगलवार को समारोह में शामिल होना है। गुरुवार को समारोह में किसे शामिल होना है?

- Ans
- A. U
 - B. T
 - C. P
 - D. R

Question ID : 630680176742

Status : Not Answered

Chosen Option : --

Q.15 यदि

'A @ B' का अर्थ है कि 'A, B की पत्नी है',
'A % B' का अर्थ है कि 'A, B की मां है',
'A # B' का अर्थ है कि 'A, B की बहन है',
'A ^ B' का अर्थ है कि 'A, B के पिता का भाई है',
'A = B' का अर्थ है कि 'B, A के ससुर हैं',
'A & B' का अर्थ है कि 'A, B की मां की मां है',
तो दिए गए व्यंजक में K, J से किस रूप में संबंधित है?
K ^ I # H @ G = J

- Ans
- A. पुत्र
 - B. बहन
 - C. पति
 - D. भाई

Question ID : 630680176754

Status : Answered

Chosen Option : D

Q.16 इस प्रश्न में, संख्याओं/प्रतीकों के एक समूह को नीचे दी गई तालिका और शर्तों के अनुसार अक्षरों का उपयोग करके कूटबद्ध किया गया है। शर्तों का पालन करते हुए कूटों का सही संयोजन ही आपका उत्तर है।

संख्या / प्रतीक	!	5	@	9	^	%	2	#	\$	8
अक्षर कूट	Q	Z	C	F	D	N	R	E	M	A

शर्तें:

- (i) यदि पहला तत्व एक प्रतीक है और अंतिम, एक संख्या है, तो इन दोनों (पहले और अंतिम तत्वों) के कूटों को आपस में बदलना है।
- (ii) यदि पहला तत्व एक विषम संख्या है और अंतिम, एक सम संख्या है, तो पहले और अंतिम तत्वों को \$ के रूप में कूटबद्ध किया जाना है।

निम्नलिखित में से कौन सा '\$5%92' के लिए कूट होगा?

- Ans A. RMNFZ
 B. \$MNF\$
 C. ZMNFR
 D. RFNMZ


Question ID : 630680176751

Status : Not Answered

Chosen Option : --

Q.17 शब्द "PRACTICAL" (आगे और पीछे, दोनों दिशाओं में) में अक्षरों के ऐसे कितने युग्म हैं जिनके बीच उतने ही अक्षर हैं जितने अंग्रेजी वर्णमाला क्रम में हैं?

- Ans A. 3
 B. 2
 C. 0
 D. 1



Question ID : 630680176748

Status : Answered

Chosen Option : B

Q.18 चार अक्षर-समूह दिए गए हैं, जिनमें से तीन किसी प्रकार से एक समान हैं और एक असंगत है। उसका चयन करें जो असंगत है।

- Ans A. GIMN
 B. YAEF
 C. RTXY
 D. VXBA

Question ID : 630680176756

Status : Answered

Chosen Option : D

Q.19 दी गई संख्या, प्रतीक श्रृंखला का संदर्भ लें और दिए गए प्रश्न का उत्तर दें।
(बाएं) # 3 5 1 @ 2 7 @ 3 & ^ \$ 5 @ 8 4 % 5 1 \$ 6 @ 1 % & (दाएं)
ऐसे कितने प्रतीक हैं (बाएं से दाएं) जिनके ठीक बाद में एक सम संख्या है और ठीक पहले एक विषम संख्या है?

- Ans
- A. 4
 - B. 2
 - C. 1
 - D. 3

Question ID : 630680176746
Status : Answered
Chosen Option : D

Q.20 चार अक्षर-समूह दिए गए हैं, जिनमें से तीन किसी प्रकार से एक समान हैं और एक असंगत है। उसका चयन करें जो असंगत है।

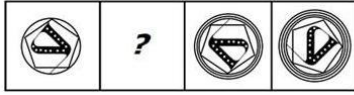
- Ans
- A. BDEG
 - B. VXYA
 - C. TVWZ
 - D. NPQS

Question ID : 630680176759
Status : Answered
Chosen Option : C



INDIA

Q.21 दिए गए विकल्पों में से उस आकृति का चयन करें जो नीचे दी गई श्रृंखला में प्रश्नवाचक चिह्न (?) को प्रतिस्थापित कर सकती है।



Ans

✓ A.



✗ B.



✗ C.



✗ D.



Question ID : 630680176760

Status : Answered

Chosen Option : D

Q.22 A, B, C, D, E, F, G और H एक परिवार के आठ सदस्य हैं। H, C का भाई है। A, C की पत्नी है। C, G का दामाद है। D, E की बहन है। G, B का पुत्र है। E, G की पत्नी है। B, F की पत्नी है। E, B से किस रूप में संबंधित है?

Ans ✗ A. भाई की पुत्री

✓ B. बहू

✗ C. पुत्री

✗ D. पति की बहन

Question ID : 630680176753

Status : Answered

Chosen Option : B

Q.23 गिल्बर्टों अपने घर से बाहर निकला और 75 m पूर्व की ओर चला। वह बाएं मुड़ा और 28 m चला। वह फिर से बाएं मुड़ा और इंटरनेट कैफे तक पहुंचने के लिए 120 m चला। गिल्बर्टों के घर से इंटरनेट कैफे कितनी दूर (सबसे कम दूरी) और किस दिशा में है?

- Ans
- A. 48 m, उत्तर-पश्चिम
 - B. 53 m, उत्तर-पूर्व
 - C. 53 m, उत्तर-पश्चिम
 - D. 48 m, उत्तर-पूर्व

Question ID : 630680176752
Status : Answered
Chosen Option : C

Q.24 चार अक्षर-समूह दिए गए हैं, जिनमें से तीन किसी प्रकार से एक समान हैं और एक असंगत है। उसका चयन करें जो असंगत है।

- Ans
- A. ZABY
 - B. DWFU
 - C. NMPL
 - D. HSJQ

Question ID : 630680176758
Status : Answered
Chosen Option : C

Q.25 आद्याक्षर A, S, D, F, G और H वाले छह मित्र, जरूरी नहीं है कि वे इसी क्रम में हों, एक गोल मेज के परितः मेज़ के केंद्र की ओर अभिमुख होकर और एक दूसरे से समान दूरी पर बैठे हैं। केवल G, F और S के बीच बैठा है। G, S के ठीक बाएं बैठा है। D, A और H के ठीक बीच में बैठा है। S, H के ठीक बाएं बैठा है। A के ठीक दाएं कौन बैठा है?

- Ans
- A. D
 - B. F
 - C. S
 - D. H

Question ID : 630680176740
Status : Answered
Chosen Option : B

Section : Quantitative Aptitude

Q.1 एक शंकु की ऊँचाई 40 cm है। यदि शंकु के आधार के समानांतर एक समतल से उसके शीर्ष पर एक छोटा शंकु काटा जाता है, तो छोटे शंकु का आयतन, बड़े शंकु के आयतन के $\frac{1}{64}$ होता है। छिन्नक (frustum) की ऊँचाई कितनी है?

- Ans
- A. 15
 - B. 30
 - C. 5
 - D. 10

Question ID : 630680176788
Status : Answered
Chosen Option : B

Q.2 पाँच वर्ष पहले, लॉरेल की आयु, उसके पुत्र की आयु के चार गुने से चार वर्ष अधिक थी। तीन वर्ष बाद, लॉरेल की आयु, उसके पुत्र की आयु के तीन गुने से छह वर्ष कम होगी। अब से कितने वर्ष बाद उनकी संयुक्त आयु 50 वर्ष होगी?

- Ans
- A. 10
 - B. 6
 - C. 8
 - D. 3

Question ID : 630680176787

Status : Answered

Chosen Option : C

Q.3 एक सभागार में कुछ विद्यार्थियों को बैठाया जाना है। जब वे 8, 9, 11, और 12 की पंक्तियों में बैठाए जाते हैं, तो बैठने के लिए 3 विद्यार्थी हमेशा बच जाते हैं। लेकिन जब उन्हें 15 पंक्ति में बैठाया जाता है, तो बैठने के लिए कोई भी विद्यार्थी नहीं बचता है। यदि विद्यार्थियों की संख्या 1,000 से अधिक थी, तो सभागार में विद्यार्थियों की न्यूनतम संख्या ज्ञात करें।

- Ans
- A. 4185
 - B. 3225
 - C. 4755
 - D. 3660

Question ID : 630680176766

Status : Answered

Chosen Option : B

Q.4 सतीश ने मनोज को 700 m की दौड़ में 40 m की बढ़त दी। सतीश 9 km/h की चाल से दौड़ता है। यदि सतीश, मनोज को 40 सेकंड से हरा देता है, तो सतीश और मनोज की चालों का अनुपात ज्ञात कीजिए, यदि उन्होंने एक ही समय में दौड़ शुरू की।

- Ans
- A. 40 : 33
 - B. 35 : 27
 - C. 17 : 14
 - D. 51 : 46

Question ID : 630680176780

Status : Answered

Chosen Option : B

Q.5 निम्न तालिका एक हाउसिंग सोसायटी के बच्चों का वजन वितरण दर्शाती है। 10 kg और 40 kg के बीच वजन वाले बच्चों की संख्या ज्ञात कीजिए।

वजन (kg)	बच्चों की संख्या
10 या ज्यादा	24
20 या ज्यादा	18
30 या ज्यादा	14
40 या ज्यादा	6
50 या ज्यादा	1

- Ans
- A. 56
 - B. 44
 - C. 18
 - D. 6

Question ID : 630680176784

Status : Answered

Chosen Option : A

Q.6 A में 25 लीटर जल और दूध 1:4 के अनुपात में मिलाया जा सकता है। यदि मिश्रण का 3 लीटर खाली कर दिया जाता है और 2 लीटर दूध मिला दिया जाता है और इसी प्रक्रिया को एक बार और किया जाता है, तो दूध और जल का अंतिम अनुपात क्या होगा?

- Ans
- A. 54 : 275
 - B. 72 : 185
 - C. 49 : 11
 - D. 383 : 77

Question ID : 630680176769

Status : Answered

Chosen Option : B

Q.7 दो अंकों की एक संख्या और अंकों को आपस में बदलकर प्राप्त संख्या के बीच का अंतर 54 है और अंकों का योग 10 है। तो दो अंकों की दोनों संख्याओं का औसत ज्ञात करें।

- Ans
- A. 55
 - B. 59
 - C. 48
 - D. 44

Question ID : 630680176767

Status : Answered

Chosen Option : A

Q.8 दिलीप एक कार्य को $32\frac{1}{2}$ दिन में कर सकता है। देवन, दिलीप की तुलना में 30% अधिक कार्यकुशल है। यदि वे एकांतर दिनों (बारी-बारी से एक के बाद एक) में कार्य करते हैं, जिसकी शुरुआत देवन से होती है, तो वे कितने दिनों में कार्य पूरा करेंगे?

Ans

A. $23\frac{1}{2}$

B. $25\frac{3}{10}$

C. $28\frac{3}{13}$

D. $27\frac{2}{3}$

Question ID : 630680176782

Status : Answered

Chosen Option : B

Q.9 निम्नलिखित का मान ज्ञात करें।

$$\frac{4}{5} \div \frac{5}{8} \times \frac{17}{20} \div \left[3\frac{1}{5} + 1\frac{1}{3} \right]$$

Ans

A. $\frac{15}{22}$

B. $\frac{6}{25}$

C. $\frac{17}{12}$

D. $\frac{25}{17}$

Question ID : 630680176765

Status : Answered

Chosen Option : B

Q.10 एक व्यक्ति x km/h की चाल से गाड़ी चलाकर दिल्ली से नैनीताल तक जाता है और अपनी चाल को 25% बढ़ाकर दिल्ली वापस लौटता है। पूरी यात्रा में उसकी औसत चाल $93\frac{1}{3}$ km/h है। चाल का योग क्या है?

Ans

A. 196

B. 184.8

C. 193.5

D. 189

Question ID : 630680176779

Status : Answered

Chosen Option : A

Q.11 x, y के वर्ग के व्युत्क्रमानुपाती है। दिया गया है कि जब $x=2$, तो $y=3$ है। जब $y=4$ हो, तो x का मान ज्ञात करें।

Ans

✓ A. $1\frac{1}{8}$

✗ B. $2\frac{5}{8}$

✗ C. $\frac{3}{4}$

✗ D. $1\frac{1}{3}$

Question ID : 630680176775

Status : Answered

Chosen Option : B

Q.12 निम्नलिखित वृत्त आलेख एक स्कूल में शिक्षकों की संख्या और उनकी आयु के अनुसार उनका वेतन दर्शाते हैं।

30-40 आयु वर्ग वाले शिक्षकों का औसत वेतन ज्ञात कीजिए। (निकटतम पूर्णांक तक पूर्णांकित)

शिक्षकों की संख्या



प्रति माह वेतन ₹ में



■ 25-30 ■ 30-35 ■ 35-40 ■ 40-45 ■ 45-50 ■ 25-30 ■ 30-35 ■ 35-40 ■ 40-45 ■ 45-50

Ans

✗ A. ₹36,667

✗ B. ₹36,454

✓ C. ₹35,333

✗ D. ₹35,887

Question ID : 630680176785

Status : Answered

Chosen Option : B

Q.13 A, B और C, $\frac{1}{2} : \frac{1}{3} : \frac{1}{4}$ के अनुपात में लाभ और हानि साझा करने के लिए एक साझेदारी करते हैं। 3 महीने के

बाद, A अपनी पूंजी का $\frac{1}{3}$ भाग आहरित कर लेता है और B अपनी पूंजी का $\frac{1}{2}$ भाग और निवेश करता है। 10 महीने के अंत में वे ₹ 52,260 का लाभ साझा करते हैं। B का हिस्सा (₹ में) ज्ञात करें।

Ans

✓ A. 21,708

✗ B. 24,166

✗ C. 22,110

✗ D. 23,436

Question ID : 630680176776

Status : Answered

Chosen Option : B

Q.14 दो पाइप एक टंकी को क्रमशः 24 और 30 मिनटों में भर सकते हैं, और टंकी के तल पर मौजूद एक छिद्र उसे 4 गैलन प्रति मिनट की दर से खाली कर सकता है। तीनों पाइप एक साथ कार्य करते हैं और टंकी को 20 मिनट में भर देते हैं। गैलन में टंकी की क्षमता ज्ञात कीजिए।

- Ans A. 120
 B. 140
 C. 160
 D. 180

Question ID : 630680176783
Status : Answered
Chosen Option : B

Q.15 एक व्यक्ति 180 km की यात्रा कार से 48 km/h, 1700 km की यात्रा हवाई जहाज से 680 km/h और 300 km की यात्रा ट्रेन से x km/h की चाल से तय करता है। यदि पूरी यात्रा की औसत चाल 218 km/h है, तो x का मान ज्ञात करें।

- Ans A. 85
 B. 80
 C. 100
 D. 90

Question ID : 630680176768
Status : Answered
Chosen Option : C

Q.16 किसी धनराशि पर 12% वार्षिक की दर से 3 वर्ष का साधारण ब्याज ₹17,514 होता है। दो वर्ष के अंत में मिश्रधन (₹ में) ज्ञात करें।

- Ans A. 48,650
 B. 36,487.50
 C. 42,382.50
 D. 60,326

Question ID : 630680176777
Status : Answered
Chosen Option : D

Q.17

यदि $\cot\theta = \frac{4}{3}$ है, तो $\frac{5\sin\theta - 3\cos\theta}{5\sin\theta + 3\cos\theta}$ ज्ञात कीजिए।

Ans

A. $\frac{3}{8}$

B. $\frac{2}{3}$

C. $\frac{5}{4}$

D. $\frac{1}{9}$

Question ID : 630680176789

Status : Answered

Chosen Option : B

Q.18 A, B को एक लैपटॉप 15% के लाभ पर बेचता है, B उसी लैपटॉप को C को 20% के लाभ पर बेचता है और C उसे D को 5% की हानि पर बेचता है। यदि A और D के बीच अर्जित कुल लाभ ₹1,492.80 है, तो C की लागत (₹ में) ज्ञात करें।

Ans

A. 7,234

B. 6,955

C. 5,520

D. 6,624

Question ID : 630680176773

Status : Answered

Chosen Option : B

Q.19 जेनी ने एक डाइनिंग सेट पर क्रय मूल्य से 20% अधिक मूल्य अंकित किया और जेसिका को बेचते समय 10% की छूट दी। जेसिका ने उस पर 25% अधिक मूल्य अंकित किया और x% की छूट दी और उसे जोनाथन को बेचते समय 15% (₹25,650) का लाभ अर्जित किया। x% ज्ञात करें।

Ans

A. 8

B. 7

C. 5

D. 6

Question ID : 630680176774

Status : Answered

Chosen Option : D

Q.20 1.1.22 को A का वेतन ₹1,52,400 प्रति माह है। मार्च में इसमें 8% की वृद्धि हुई, अगस्त में 5% की कमी हुई और नवंबर में फिर से 10% की वृद्धि हुई। तीसरे बदलाव के बाद उसका वेतन (₹ में) क्या होगा? (निकटतम पूर्णांक तक पूर्णांकित)

Ans A. 1,73,205

B. 1,71,998

C. 1,72,432

D. 1,74,061

Question ID : 630680176770

Status : Answered

Chosen Option : A

Q.21 कितने वार्षिक भुगतान (₹ में) से $16\frac{2}{3}\%$ वार्षिक चक्रवृद्धि ब्याज पर 3 वर्षों में देय ₹15,240 के ऋण का भुगतान होगा?

Ans A. 6,860

B. 7,620

C. 6,450

D. 7,230

Question ID : 630680176778

Status : Answered

Chosen Option : B

Q.22 X एक कार्य को 12 दिन में पूरा कर सकता है। Y, X की तुलना में 20% कम कार्यकुशल है। यदि वे 5 दिन के लिए एक साथ कार्य करते हैं और X कार्य छोड़ जाता है, तो कार्य का कितना भाग अधूरा रह गया है?

Ans A. $\frac{2}{3}$

B. $\frac{1}{3}$

C. $\frac{1}{5}$

D. $\frac{1}{4}$

Question ID : 630680176781

Status : Answered

Chosen Option : A

Q.23 दो उम्मीदवारों के बीच एक चुनाव में, 3% ने अपने मत नहीं डाले और डाले गए 5% मतों को अवैध घोषित कर दिया गया। विजयी प्रत्याशी को वैध मतों का 54% प्राप्त हुआ और वह 11,058 मतों के बहुमत से विजयी हुआ। उन मतदाताओं की संख्या ज्ञात करें, जिन्होंने मत नहीं डाला।

Ans A. 3750

B. 4125

C. 5050

D. 4500

Question ID : 630680176772

Status : Answered

Chosen Option : B

Q.24 राजू अपनी आय के 15% की बचत करता है। उसके वेतन में 18% की वृद्धि हुई थी, इसलिए उसने अपनी बचत में 20% की वृद्धि कर दी। यदि वेतन में वृद्धि के बाद उसका व्यय ₹1,32,500 था, तो वेतन में वृद्धि से पहले उसकी बचत (₹ में) ज्ञात करें।

Ans A. 19,875

B. 26,500

C. 33,125

D. 23,850

Question ID : 630680176771

Status : Answered

Chosen Option : B

Q.25 यदि $a + b + c = 6$, $(a^2 + b^2 + c^2) = 14$ और $\frac{1}{a} + \frac{1}{b} + \frac{1}{c} = \frac{11}{6}$ है, तो abc ज्ञात कीजिए।

Ans A. 11

B. 1

C. 6

D. 12

Question ID : 630680176786

Status : Answered

Chosen Option : C



INDIA